

# 1. Clasificación y organización de datos




Mira y aprende



- 1 Ricardo toma un baño en la tina de su casa y lleva algunos juguetes.






Para saber cuántos juguetes de cada clase tiene Ricardo, se cuentan y se hace una marca por cada uno.

Juguete	Marcas	Total
	///	3
	////	4
	//	2

Ricardo tiene:

- 3 patos
- 4 peces
- 2 barcos

- 2** A varios estudiantes se les preguntó qué máquina les gustaría manejar. Así respondieron.

Grúa	Pala mecánica	Mezclador
		
Tania, José, Pepe, Sara, Lupe.	Martina, Violeta, Daniel, Santiago, Felipe, Camilo.	Isabela, Manuela, David, Julia, Laura, Mario, Ana.


Con estos datos se puede completar la siguiente tabla.





Tipo de máquina que preferirían manejar los niños		
Máquina	Marcas	Total
Grúa	///	5
Pala mecánica	/// /	6
Mezclador	/// //	7

- a)** La máquina que más les gustaría manejar a los estudiantes es **el mezclador**.
- b)** Los estudiantes que preferirían manejar el mezclador son en total **7**.
- c)** La máquina que menos preferirían manejar los estudiantes es **la pala mecánica**.

# Haz y aprende

1 Observa el dibujo y completa la tabla.



Juguete	Marcas	Total
		
		
		
		


a) ¿Cuántos carros rojos hay?

b) ¿Cuántos camiones hay?

c) ¿Cuántos balones de fútbol hay?

d) ¿Cuántos balones de baloncesto hay?

- 2 Registra en la tabla el número de objetos que hay en el dibujo.




Objetos	Marcas	Total
Raquetas		
Bates		
Pelotas de tenis		
Pelotas de golf		

- ¿Cuántos objetos de cada clase hay?
- ¿De qué objeto hay una mayor cantidad?
- ¿De qué objeto hay una menor cantidad?

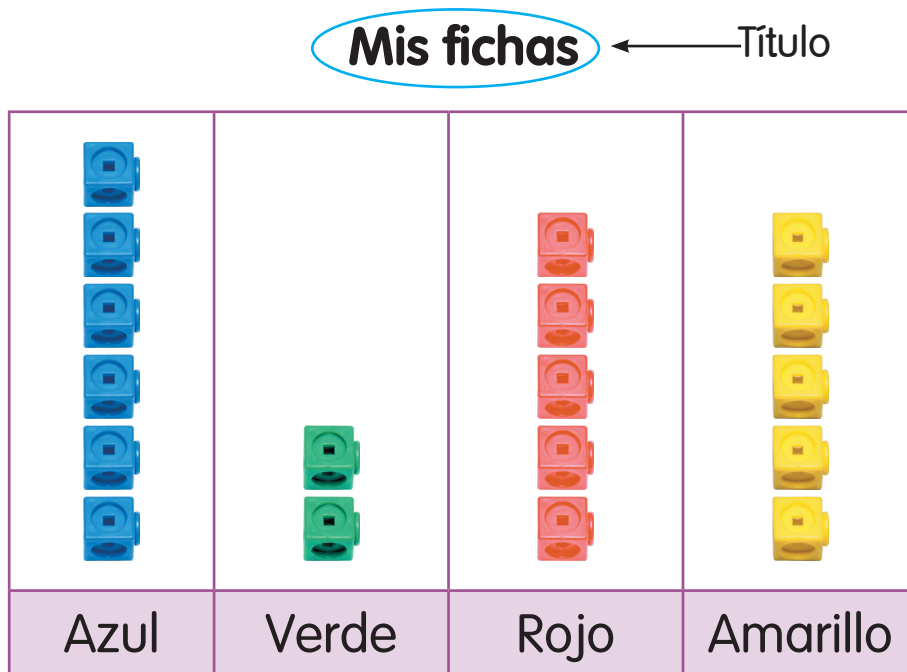
## 2. Pictogramas. Lectura e interpretación

Mira y aprende 

- 1 Rafaela tiene 18 fichas.  
¿Cuántas fichas de cada color tiene?



Ella agrupa las fichas según el color y los cuenta.  
En un **pictograma** podemos mostrar la cantidad de fichas y el color de cada una.



La cantidad de fichas y el color de cada una son los datos.



Rafaela tiene 6 fichas azules, 2 fichas verdes, 5 fichas rojas y 5 fichas amarillas.